

NOMBRE Y APELLIDOS:

FECHA:

ATENCIÓN

DESCRIPCIÓN DEL EJERCICIO: 2 llaves de las siguientes son iguales. Tiene 3 minutos para encontrarlas.








NOMBRE Y APELLIDOS:





FECHA:

ATENCIÓN

DESCRIPCIÓN DEL EJERCICIO: Intente recordar la forma y el color de cada figura que hay a continuación.



Sin mirar la anterior hoja, indique cual de las siguientes figuras no estaba en el otro dibujo.



NOMBRE Y APELLIDOS:

FECHA:

CALCULO

DESCRIPCIÓN DEL EJERCICIO: Rellene los círculos siguiendo la dirección de las flechas, poniendo el número que es el doble del anterior.

